






OPAKOVÁNÍ 7	4
PYTHAGOROVA VĚTA	12
Jak vypočítat velikost přepony v pravoúhlém trojúhelníku?	12
Jak vypočítat velikost odvěsny v pravoúhlém trojúhelníku?	14
KRUŽNICE, KRUH, VÁLEC	34
Je rozdíl mezi kružnicí a kruhem?	34
Jak vypočítáme délku kružnice?	35
Jak vypočítáme obsah kruhu?	37
Co je to válec a jaké má vlastnosti?	40
KONSTRUKČNÍ ÚLOHY	54
Přímky a kružnice v rovině	54
Jak určíme vzdálenost bodu od nějakého útvaru?	57
Seznamte se s významnou množinou bodů aneb co je Thaletova věta	61
Konstrukční úlohy a množiny bodů dané vlastností	63



Seznamte se s významnou množinou bodů aneb co je Thaletova věta

Značení úloh:

- 1.2** úloha – učebnice
- 1** úloha – pracovní sešit
-  obtížnost úlohy
-  obtížnost úlohy
-  obtížnost úlohy