


























## Aritmetika

|  |    |
|--|----|
|  Jednotky délky  | 1  |
|  Jednotky hmotnosti                                    | 2  |
|  Jednotky objemu                                       | 3  |
|  Písemné sčítání trojmístných čísel                    | 4  |
|  Písemné odčítání trojmístných čísel                   | 6  |
|  Násobení 10 a 100                                     | 9  |
|  Násobení násobků deseti<br>jednomístným činitelem     | 9  |
|  Násobení dvojmístných čísel<br>jednomístným činitelem | 11 |
|  Násobení trojmístných čísel<br>jednomístným činitelem | 13 |
|  Písemné násobení jednomístným činitelem               | 15 |
|  Dělení se zbytkem                                     | 17 |
|  Dělení 10 a 100                                       | 20 |
|  Dělení násobků deseti jednomístným dělitelem          | 21 |
|  Dělení jednomístným dělitelem                         | 22 |

|  |    |
|--|----|
|  Jednotky času                            | 25 |
|  Slovní úlohy s více početními operacemi | 26 |
|  Práce s daty – jednoduché tabulky       | 28 |

## Geometrie

|  |    |
|--|----|
|  Kružnice a kruh                                       | 31 |
|  Rýsování kružnice                                     | 32 |
|  Přenášení úseček a úsečky shodné                      | 33 |
|  Porovnávání úseček                                    | 34 |
|  Střed úsečky  | 35 |
|  Mnohoúhelníky   | 36 |
|  Trojúhelníky, čtyřúhelníky a jejich obvody            | 37 |
|  Konstrukce trojúhelníku<br>a rovnostranný trojúhelník | 39 |
|  Tělesa – vrcholy, stěny, hrany                        | 40 |
|  Modelování kvádru podle daného plánu                  | 42 |